





- 4) Вставь пропущенное число в окошко так, чтобы равенство стало верным.

$$417 - \square = 199$$




- 5) При оклейке комнаты обоями на одну из стен наклеили только один кусок обоев. Как ты думаешь, сколько ещё таких же кусков обоев потребуется, чтобы оклеить ими оставшуюся часть стены?



Запиши решение и ответ.

Решение:



Ответ:









10

Тренер школьной команды по футболу каждый месяц отмечал количество забитых командой голов в играх с командами других школ. Это количество тренер изображал в виде прямоугольников шириной в одну клетку. Длина прямоугольника обозначает количество забитых за месяц голов: одна клетка – один гол.



1) Сколько голов команда забила в мае?

Ответ: \_\_\_\_\_

2) В октябре команда забила пять голов, а в ноябре – три.

Изобрази на рисунке прямоугольниками количество забитых голов в октябре и в ноябре. Ширина каждого прямоугольника должна быть равна одной клетке, а длина в клетках – количеству забитых голов.

3) Сделай вывод о том, как менялось количество забитых голов за все отмеченные месяцы. Запиши свой вывод одним предложением.

Ответ: \_\_\_\_\_

\_\_\_\_\_



11

Ниже приведены цены на некоторые спорттовары в двух спортивных магазинах.

<i>1-й магазин</i>	<i>2-й магазин</i>
Мячик для пинг-понга – 12 руб.	Мячик для пинг-понга – 10 руб.
Ракетка для пинг-понга – 260 руб.	Ракетка для пинг-понга – 270 руб.
Футбольный мяч – 950 руб.	Футбольный мяч – 900 руб.
Теннисный мячик – 100 руб.	Волейбольный мяч – 820 руб.
Волейбольный мяч – 800 руб.	Набор для бадминтона – 1450 руб.
Набор для бадминтона – 1500 руб.	

В каком магазине дешевле будет стоять такая покупка: волейбольный мяч, набор для бадминтона и 10 мячиков для пинг-понга?

Ответ: \_\_\_\_\_

---

---

---

---

---

Какова стоимость более дешёвой покупки?

Ответ: \_\_\_\_\_


---

---

---

---

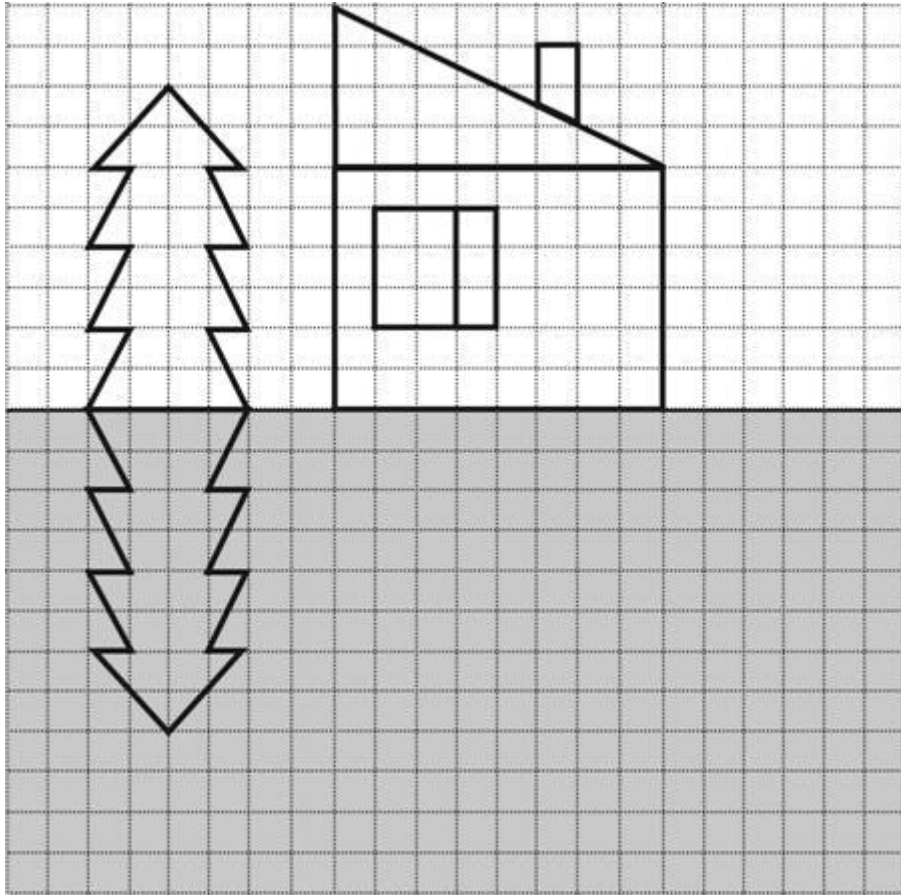
---



12

Художник хотел нарисовать домик, ёлку и их отражение в воде, но бабушка позвала его обедать, и он не успел нарисовать отражение домика.

Нарисуй отражение домика.



13 В «Детском мире» продавали двухколёсные и трёхколёсные велосипеды. Миша пересчитал все рули и все колёса. Получилось 12 рулей и 27 колёс. Сколько трёхколёсных велосипедов продавали в «Детском мире»?

Ответ: \_\_\_\_\_

---

---

---

---

